











HISTOIRE DES COMMUNICATIONS Polynésie/France

Complete le tableau puis répond aux questions

NOM : _____.

PRENOM : _____.

CLASSE : _____

Moyen de transport									
Date							1978		
									
Durée		2 à 3 mois							
Invention						Ondes radio			



Sur la carte : Indique par un point rouge la Polynésie
 Écrit la distance en la Polynésie et la France
 Trace les 3 routes des bateaux.(en Bleu)
 Trace la fibre en la Polynésie et Hawaii (rouge)

Conclusion : en _____ années, communications avec la France sont passées de plusieurs _____ à quelques _____.

Selon toi : Quelle invention est la plus incroyable ?

 Pourquoi un ping de 800ms est lent ? (recherche sur google autorisée)
